

NAO
1 **EN EL PORTAL DE FRANCIA**




CASTELLANO INGLÉS

NAO
2 **EN LA TACONERA**





CASTELLANO INGLÉS
EUSKERA

NAO
3 **EN LA CALLE CAMPANA**





CASTELLANO INGLÉS
KICHWA

NAO
4 **EN CABALLO BLANCO**





CASTELLANO INGLÉS
ALEMÁN

NAO
5 **EN LA ESTAFETA**



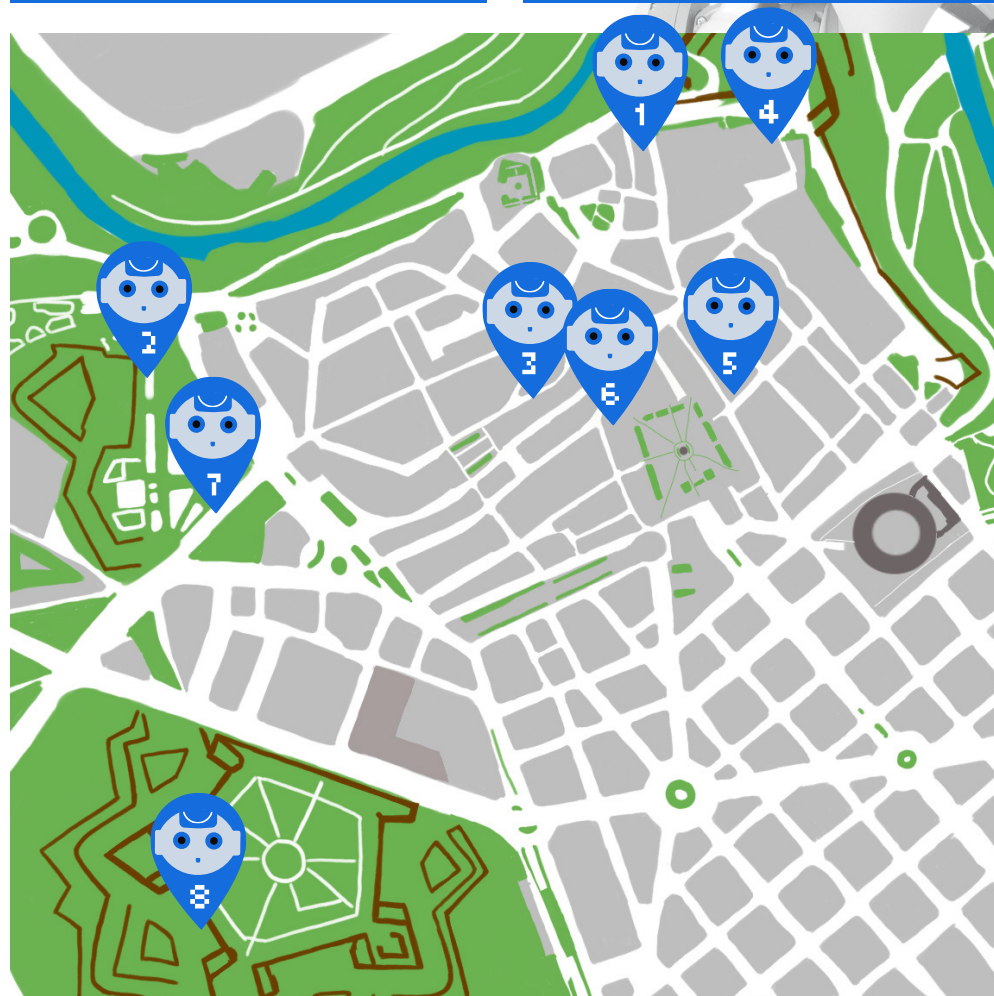

CASTELLANO INGLÉS

NAO
6 **EN PASADIZO DE LA JACOBA**





CASTELLANO INGLÉS
EUSKERA



NAO
7 **EN EL PORTAL DE SAN NICOLÁS**





CASTELLANO INGLÉS
KICHWA

NAO
8 **EN LA CIUDELA**





CASTELLANO INGLÉS
ALEMÁN



IES
NAVARRO VILLOSLADA

Ayuntamiento de
Pamplona | Iruñeko
Udala

Pamplona
CIUDAD
EDUCADORA

ITINERARIO
RETOS CON NAO
PAMPLONA

RETO 1

En el portal de Francia o Portal de Zumalacárregui verás dos cadenas a los lados. ¿Para qué se utilizaban esas cadenas?

RESPUESTA:



¿Adivinas cuándo se utilizan esas cadenas hoy en día?. Solo ocurre una vez a año para recibir a:

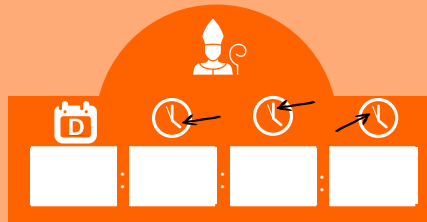

CRELMOH, RASPGA, SATLABAR



RETO 5

Busca en la calle Estafeta, en la zona más cercana, (en el número 36), un reloj digital muy grande que muestra una cuenta atrás. Pregunta a alguien de Pamplona qué es lo que indica y acuérdate de apuntar cuantos días y horas quedan...

Puedes resolver el laberinto



RETO 2

En la Taconera encontramos el monumento a Gayarre, uno de los cantantes más reconocidos del lugar. Cuenta el número de figuras bajo sus pies.



¿Cuándo terminan los San Fermín?



RESPUESTA:

Ya que estás rodeado/a de árboles, ¿Quieres buscar sus nombres? Búscalos y completa.

Señal 7: Tejo en espiral

Este ejemplar ha sido históricamente una referencia en el parque de la Taconera por su poda en forma de espiral.

(Respuesta: Taxus baccata)

T _ _ U _ _ _ C _ _ _ A

Señal 8: Fresno "el superviviente"

Te encuentras acompañando al árbol más anciano del parque.

(Respuesta: Fraxinus excelsior)


_ R _ _ _ U _ _ _ E _ C _ _ _

RETO 6

Imagina un día lluvioso y que necesitas ir de la Plaza del Castillo a la calle Zapatería. Encuentra el pasadizo de la Jacoba, por donde no te mojarías y, cuando salgas por el otro lado, apunta cómo se llama la construcción circular que verás en medio de la calle.

NOMBRE:


PISTA: Puedes revisar el código QR humano, pon la hoja horizontal a la altura de los ojos. ¿Puedes descifrarlo?



RETO 3

En la Calle Campana se encuentra en el suelo un círculo plateado pequeño que es el punto más alto del casco antiguo de Pamplona. ¿Cómo se llama la otra calle cercana a este punto? Resuelve el Jeroglífico para saber más de la persona que da nombre a la calle.

RESPUESTA:



RETO 7

En la entrada a la Taconera más cercana a la iglesia de San Lorenzo hay un portal llamado portal de San Nicolás. Debes buscar alrededor del portal y encontrar las fechas en las que se construyó, se desmontó y volvió a construir. Acuérdate de apuntarlo: Resuelve la suma para comprobar si has anotado las fechas correctas



Nº 1

Nº 2

Nº 3



SUMA

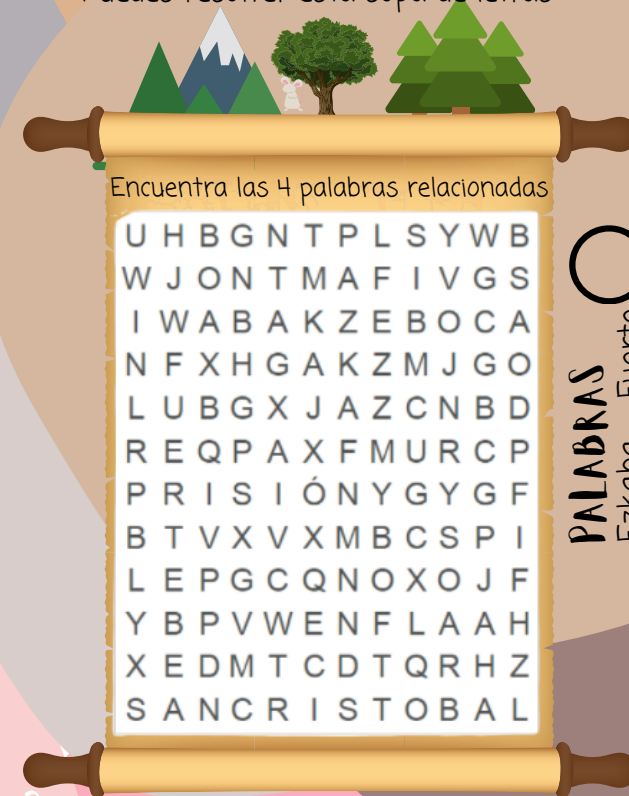
5502

RETO 4

Desde el mesón "El caballo blanco" se llega a un mirador abierto en la muralla. Desde ese mirador se ve un monte muy cercano y, en la cima, se ve una construcción. ¿Cómo se llama el monte? **RESPUESTA:**

¿Qué uso se le dio a la construcción que está arriba durante la guerra?

Puedes resolver esta sopa de letras



PALABRAS
Ezkaba Fuerte
San Cristóbal Prisión

RETO 8

Sal de la Ciudadela por la puerta del Socorro (atravesando el túnel). Si sigues por ese camino llegarás a un círculo con cuatro salidas. Si has explorado correctamente, encontrarás una rosa de los vientos y un mapa con una pequeña historia. Saca una foto o haz un dibujo de la brújula (rosa de los vientos)

TU DIBUJO

